



Gemischte Zahlen - Darstellung

Zahlen heißen **gemischte Zahlen**, wenn sie aus **Ganzen und Brüchen bestehen**.

1. Aufgabe: Zeichne folgende gemischte Zahlen mit Hilfe des Kreises:

a) $2\frac{3}{8}$

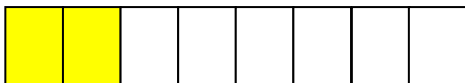
b) $4\frac{5}{8}$

c) $3\frac{3}{4}$

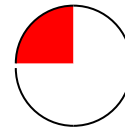

d) $2\frac{1}{4}$

2. Aufgabe: Welche Zahlen sind hier abgebildet?

a)



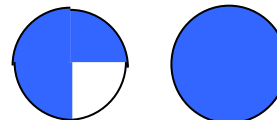
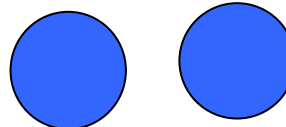
b)



c)



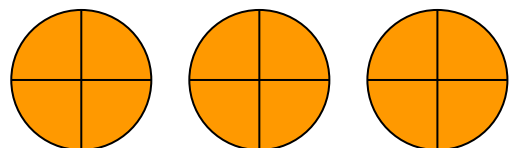
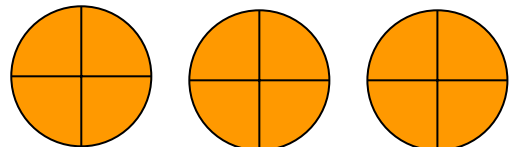
d)



e)



f)






Gemischte Zahl - Darstellung

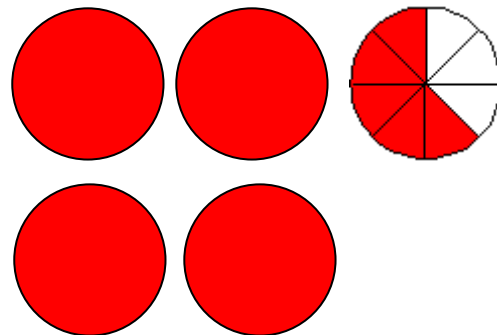
Lösungen

1. Aufgabe: Zeichne folgende gemischte Zahlen:

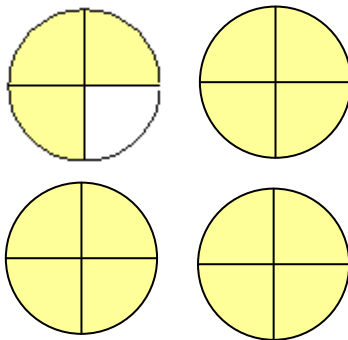
a) $2\frac{3}{8}$



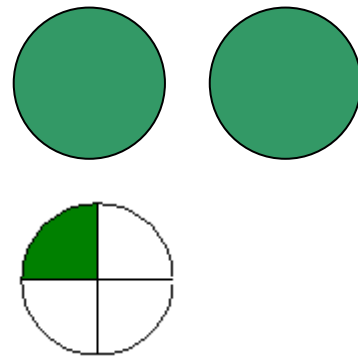
b) $4\frac{5}{8}$



c) $3\frac{3}{4}$



d) $2\frac{1}{4}$



2. Aufgabe: Welche Zahlen sind hier abgebildet?

a) $1\frac{1}{8}$

b) $1\frac{1}{4}$

c) $1\frac{1}{2}$

d) $3\frac{3}{4}$

e) $3\frac{1}{4}$

f) $6\frac{1}{4}$